

# ПРАВИЛА МУЛЬТИМЕДИЙНОГО ТУРА

- ✗ Мультимедийный тур состоит из 30 вопросов.
- ✗ На каждый вопрос дается 5 вариантов ответов, только один из них правильный.
- ✗ 15 вопросов тестов составлены на английском языке.
- ✗ Вникайте в каждый вопрос внимательно.
- ✗ На каждый вопрос дается **1 минута**.
- ✗ За каждый правильный ответ – 1 балл.
- ✗ В листах ответов обведите правильный ответ кружком, если вы сделали ошибку, зачеркните ответ и обведите кружком правильный новый ответ по вашему мнению.

**УДАЧИ!!!**

---



# ВОПРОС № 1

Назовите вид литосферного движения под обозначением А?

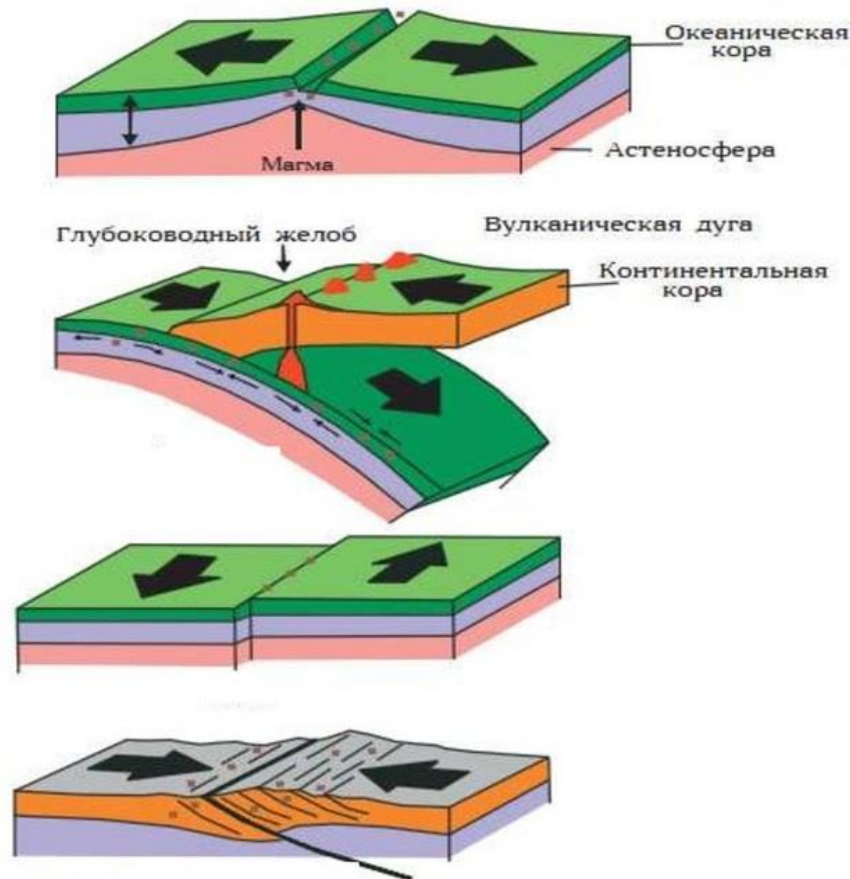
А. субдукция

В. коллизия

С. спрединг

Д. сдвиг

Е. рифтинг



А

В

С

Д

## ВОПРОС № 2

Какое геологическое строение изображено на данном аэрофотоснимке?



А. метеоритный кратер   В. Вулканическая кальдера   С. эродированная антиклиналь   Д. эродированная синклиналь   Е. кар



# QUESTION № 3

Using Table 1 which continent has the most megacities?

A. Africa

B. Asia

C. North America

D. South America

E. Australia

*Table 1: The world's largest cities in 2018 with predicted growth*

2018 rank	City	Population (thousands)	
		2018	2030
1	Tokyo, Japan	37,468	36,574
2	Delhi, India	28,514	38,939
3	Shanghai, China	25,852	32,869
4	São Paulo, Brazil	21,650	23,824
5	Mexico City, Mexico	21,581	24,111
6	Cairo, Egypt	20,076	25,517
7	Mumbai, India	19,980	24,572
8	Beijing, China	19,618	24,282
9	Dhaka, Bangladesh	19,578	28,076
10	Osaka, Japan	19,281	18,658

# ВОПРОС № 4

Какое коренное население представлено на фотографиях?

А. аймара

В. инуиты

С. чаморро

Д. туареги

Е. саамы



## QUESTION № 5

---

This is a Nauru island. In the late 20<sup>th</sup> century it boasted an income per head above that of the USA due to rich resources of phosphates. These have now become exhausted and the people are struggling to survive. How we can call such type of economy?

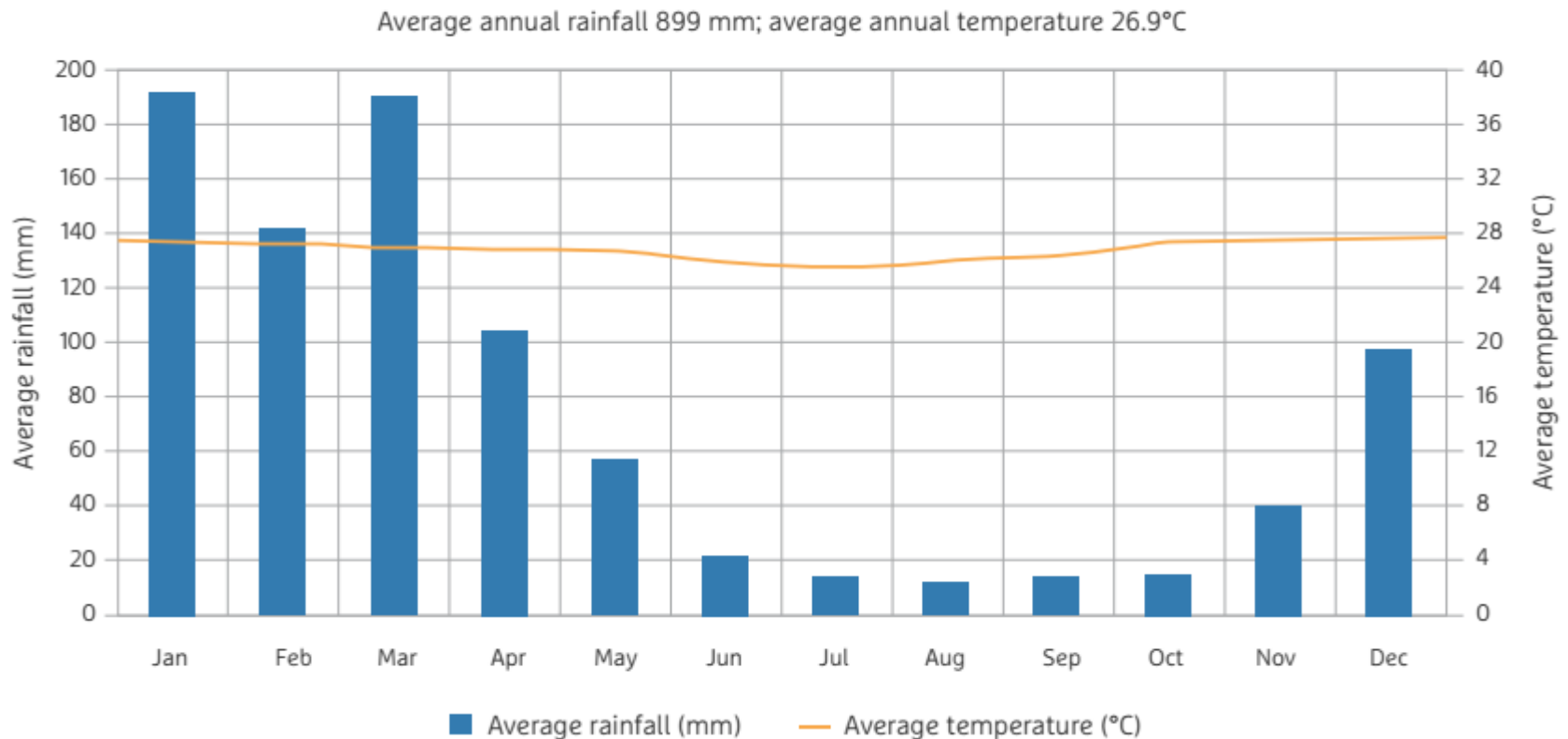


- A. sustainable economy
- B. mixed economy
- C. market economy
- D. robber economy
- E. no correct answer

# QUESTION № 6

Approximately how much rainfall does Port Moresby receive in its driest 4 months?

- A. 11 mm    B. 55 mm    C. 104 mm    D. 520 mm    E. 180 mm





# ВОПРОС № 7

В какой природной зоне встречается обильное ячеистое выветривание?

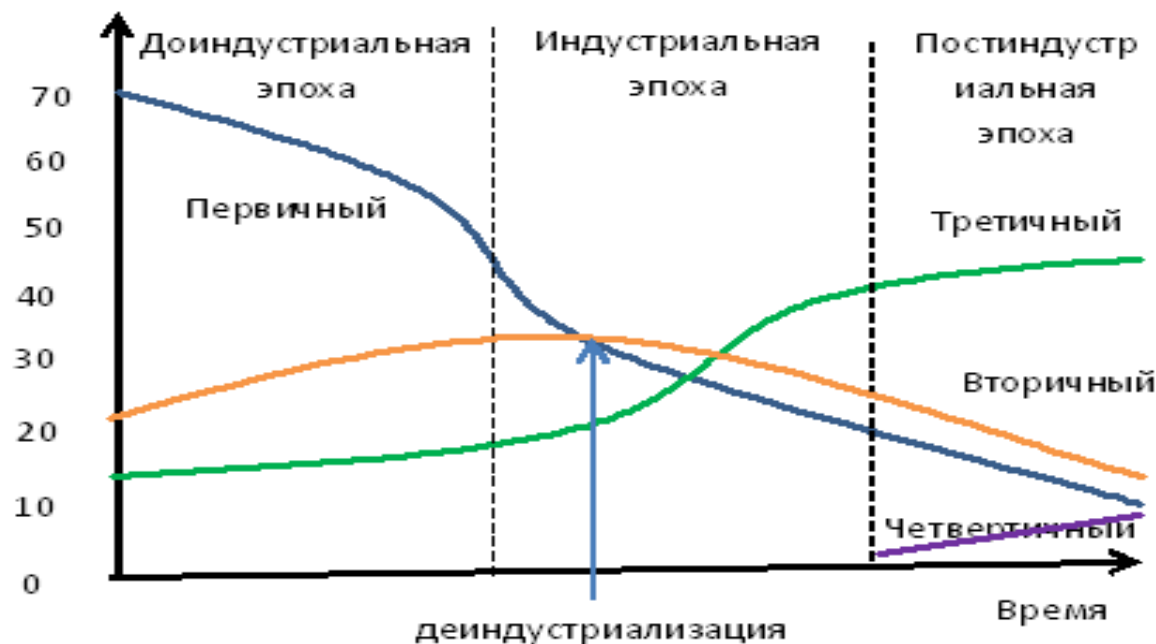


- А. тундра
- В. тайга
- С. пустыни и полупустыни
- Д. саванна
- Е. влажные экваториальные леса

## ВОПРОС № 8

В какую строку этой версии модели Кларка-Фишера включено примитивное рыбное хозяйство?

Структура занятости по  
секторам экономики, в %



А.первичный

В.вторичный

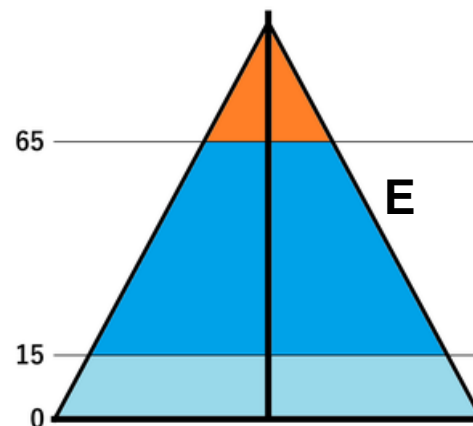
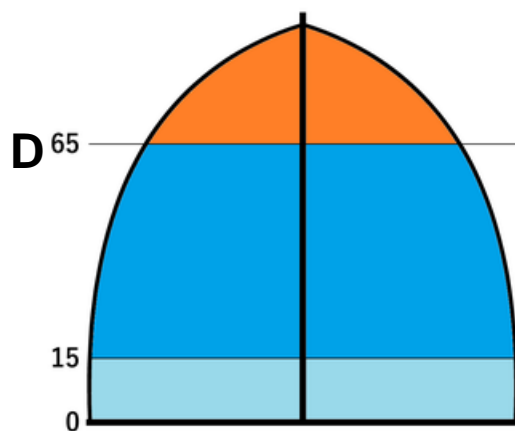
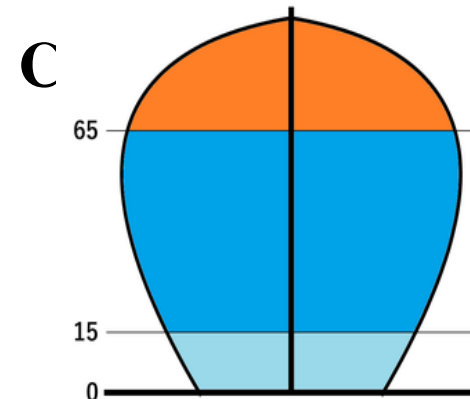
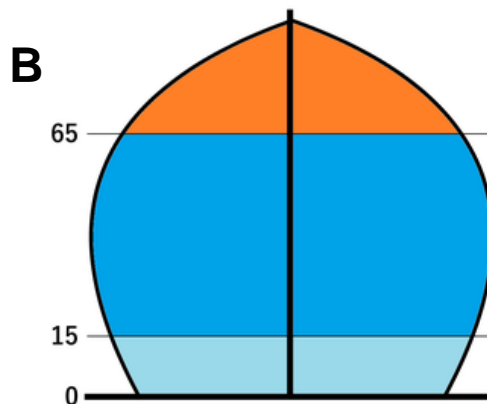
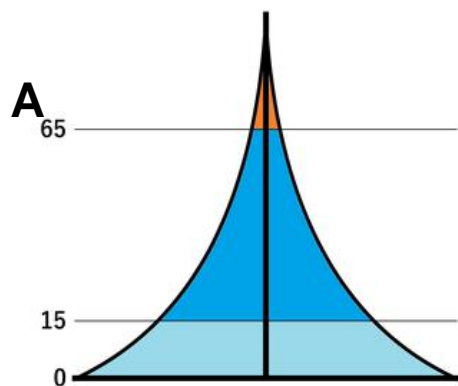
С.третичный

Д. четвертичный

Е. ни в одной

# ВОПРОС № 9

Среди предложенных определите 2 фазу демографического перехода?



A.A

B.B

C.C

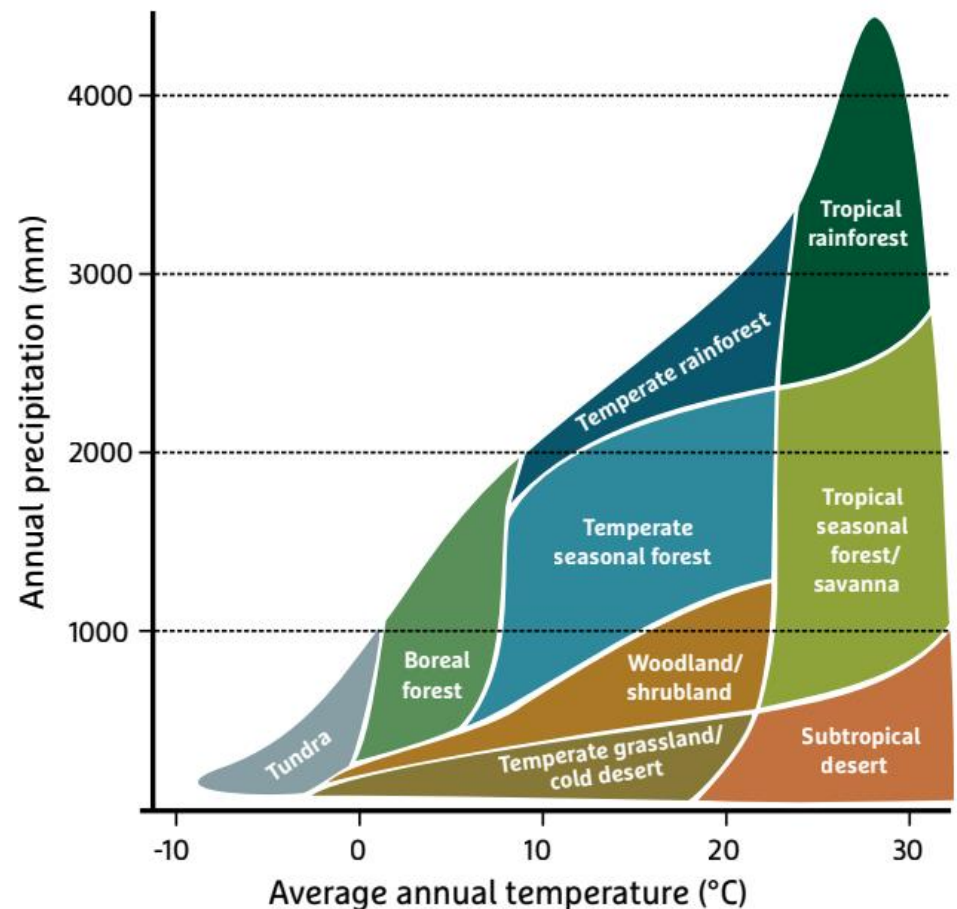
D.D

E. E

## QUESTION № 10

Considering the temperature and rainfall in Figure on Question 6 Port Moresby is in which biome in Figure below?

- A. temperate rainforest
- B. temperate seasonal forest
- C. tropical rainforest
- D. tropical seasonal forest/savannah
- E. boreal forest





## ВОПРОС № 11

Какое опасное природное явление представлено на рисунках?



А.сулой

В. гиперган

С. лахар

Д. водоворот Наруто

Е. мурмурация

# ВОПРОС № 12

Какой рисунок лучше всего соответствует понятию «танатотуризм»?



A. A

B. B

C. C

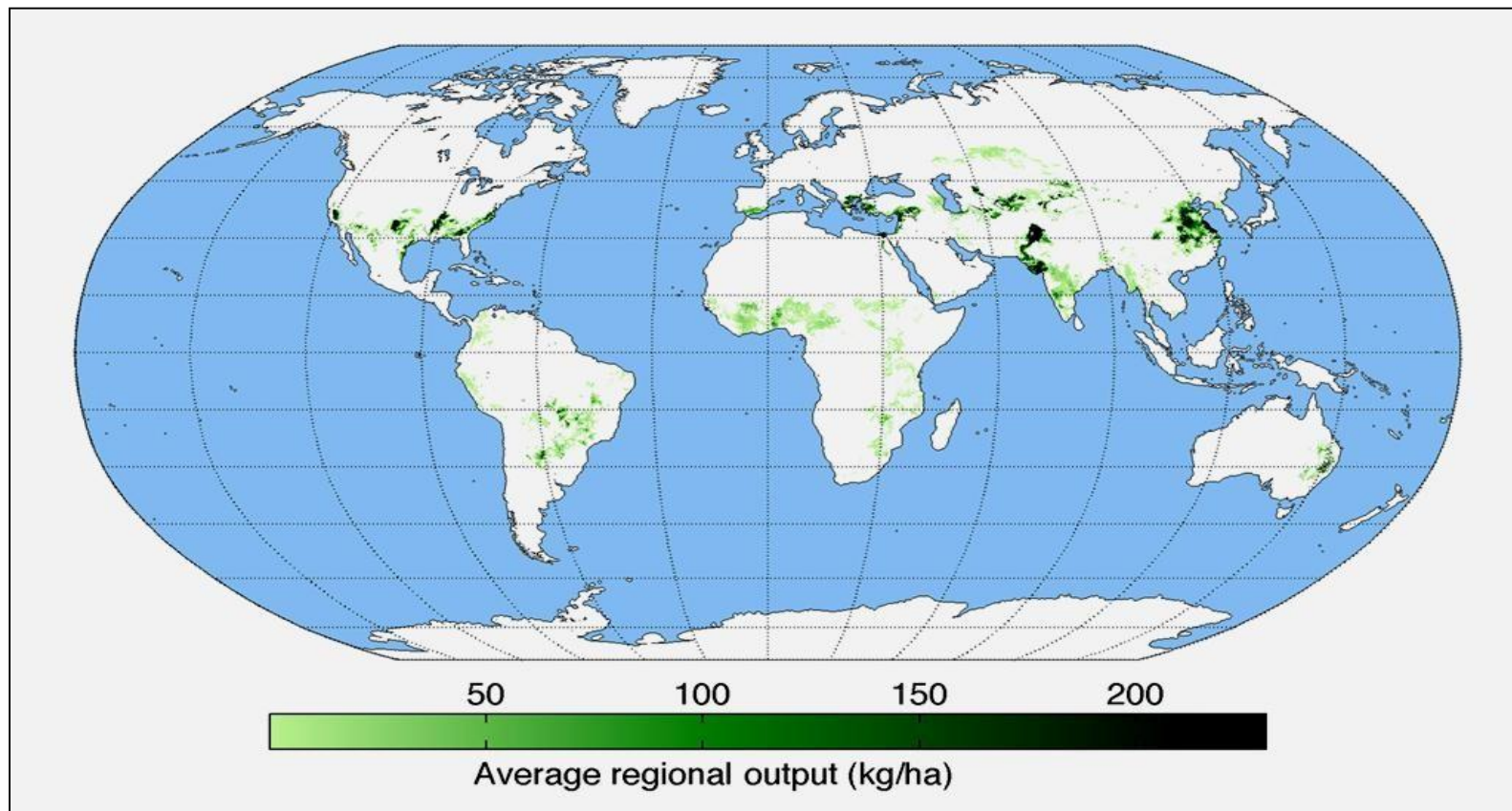
D. D

E. ни один



## ВОПРОС № 13

На карте показаны регионы, которые являются основными производителями:



А. яблоки    В. бананы    С.цитрус    Д.хлопок    Е.кофе

# QUESTION № 14

What is the reason of coral bleaching?

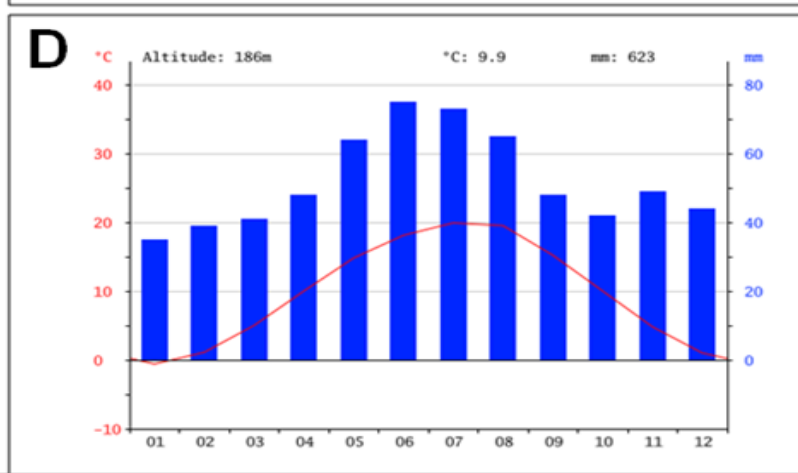
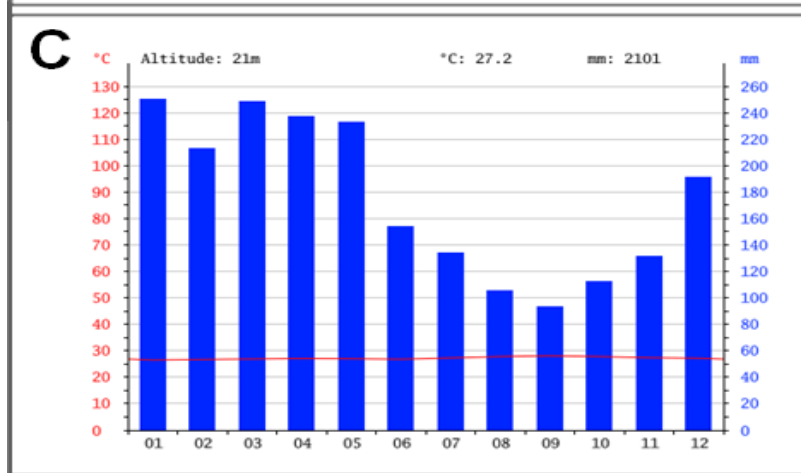
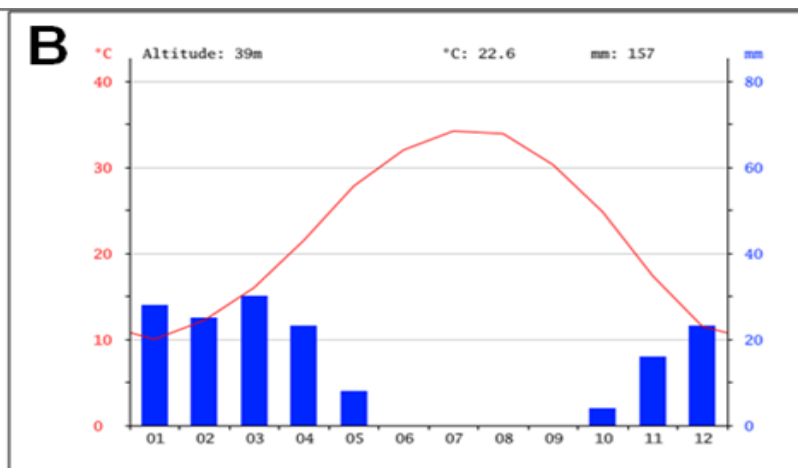
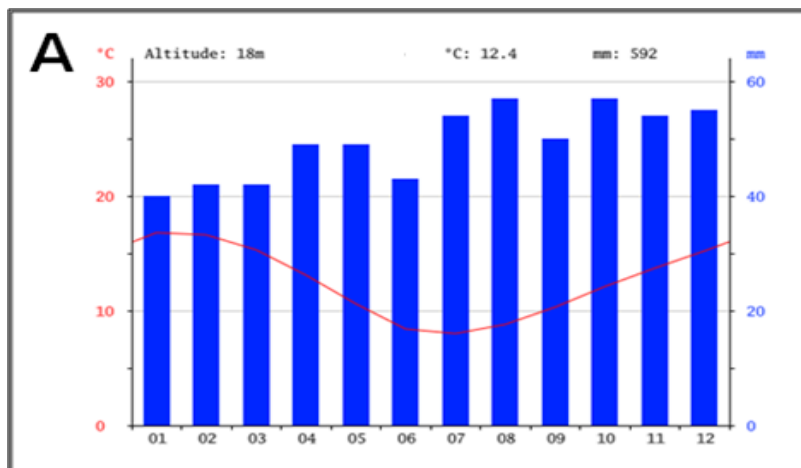


- A. low light due to cloudcover
- B. sea temperature increase
- C. increases intourist numbers
- D. overfishing
- E. when they get older they start blenching



# ВОПРОС № 15

Какая климатограмма соответствует влажному тропическому лесу?



A. A

B. B

C. C

D. D

E. все ответы верны

# ВОПРОС № 16

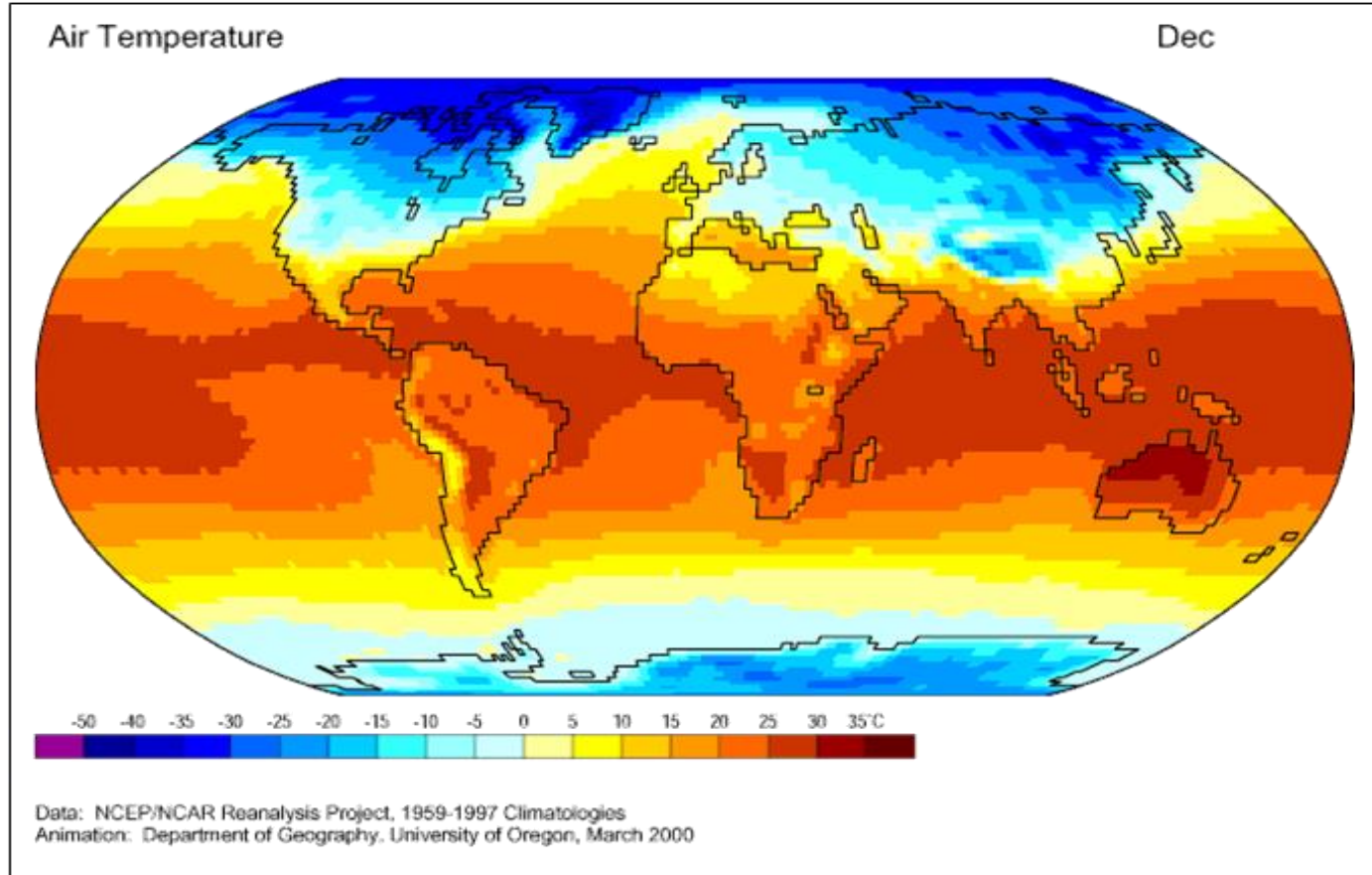
... была введена в культуру 7-12 тыс. лет назад на территории современной Мексики. Однолетнее травянистое культурное растение. Крупнейшие импортеры этой культуры являются Япония, Мексика и Китай. Назовите культуру.

А.пшеница    В.фасоль    С.кукуруза  
Д.томаты    Е.перец чили

Топ 5 производителей в 2019 г.	
(по данным министерства сельского хозяйства США (млн тонн))	
США	347
Китай	254
Бразилия	101
ЕС	64,56
Аргентина	54

# QUESTION № 17

Which factor is the most important to explain the temperature differences shown in this map?



- A. continentality
- B. ocean currents
- C. Earth rotation
- D. environmental pollution
- E. latitude

## ВОПРОС № 18

Один из двух казахстанских заповедников, входящих в список Всемирного наследия ЮНЕСКО. Заповедник создан в 1968 году для сохранения уникальных водно-болотных угодий, являющихся местом обитания многих видов птиц. Определите, о каком заповеднике Казахстана идет речь.



А. Алакольский В. Барсакельмесский С. Коргалжынский  
Д. Маркакольский Е. Наурзумский



# ВОПРОС № 19

По приведенным данным определите тип почвы

Занимаемая площадь	25,5 млн га или 9,5% территории Казахстана
Области	Северо-Казахстанская область, большая часть Костанайской, Акмолинской, Павлодарской, Актюбинской и ЗКО

- А. бурые
- В. серо-бурые
- С. каштановые
- Д. черноземы
- Е. коричневые почвы



## QUESTION № 20

Based on photos and information below find out the country in 14 century this country called «Land of million of elephants and a white umbrella». Population 7,2 million.



- A. Laos   B. Thailand   C. Myanmar  
D. Vietnam   E. Indonesia



**VEGETATION MAP OF Guyana**

Scale: 0 to 100 km

Vegetation data from FIDS basemaps, JERS Radar Satellite Images, Upland vegetation, DEM (USGS), JERS, & Huber 1988 (c) AUGUST, 2020

**VENEZUELA**

**BRAZIL**

**SURINAME**

**BRAZIL**

**Legend:**

- Forest Network
- Vegetation Composition
  - 1.1 Flood Forest Coastal/Guianas
  - 1.2 Flood Forest Wet Forest
  - 1.3 Flood Forest Palmaria
  - 1.4 Flood Forest South Guyana
  - 1.5 Flood Forest on Deep Hills
  - 1.6 Forest on Deep Hills in Palmaria
  - 1.7 Forest in Wet Forest
  - 1.8 Complex of Swamp and Flood Forest
  - 2.1 Open Forest
  - 2.2 Open Forest - Upland Forest
  - 2.3 Upland Forest
  - 2.4 Upland Forest South Guyana
  - 2.5 Upland Forest
  - 2.6 Upland Forest - Upland Forest
  - 2.7 Open Forest
  - 2.8 Open Forest
  - 2.9 Open Forest
  - 2.10 Open Forest
  - 2.11 Open Forest
  - 2.12 Open Forest
  - 2.13 Open Forest
  - 2.14 Open Forest
  - 2.15 Open Forest
  - 2.16 Open Forest
  - 2.17 Open Forest
  - 2.18 Open Forest
  - 2.19 Open Forest
  - 2.20 Open Forest
  - 2.21 Open Forest
  - 2.22 Open Forest
  - 2.23 Open Forest
  - 2.24 Open Forest
  - 2.25 Open Forest
  - 2.26 Open Forest
  - 2.27 Open Forest
  - 2.28 Open Forest
  - 2.29 Open Forest
  - 2.30 Open Forest
  - 2.31 Open Forest
  - 2.32 Open Forest
  - 2.33 Open Forest
  - 2.34 Open Forest
  - 2.35 Open Forest
  - 2.36 Open Forest
  - 2.37 Open Forest
  - 2.38 Open Forest
  - 2.39 Open Forest
  - 2.40 Open Forest
  - 2.41 Open Forest
  - 2.42 Open Forest
  - 2.43 Open Forest
  - 2.44 Open Forest
  - 2.45 Open Forest
  - 2.46 Open Forest
  - 2.47 Open Forest
  - 2.48 Open Forest
  - 2.49 Open Forest
  - 2.50 Open Forest
  - 2.51 Open Forest
  - 2.52 Open Forest
  - 2.53 Open Forest
  - 2.54 Open Forest
  - 2.55 Open Forest
  - 2.56 Open Forest
  - 2.57 Open Forest
  - 2.58 Open Forest
  - 2.59 Open Forest
  - 2.60 Open Forest
  - 2.61 Open Forest
  - 2.62 Open Forest
  - 2.63 Open Forest
  - 2.64 Open Forest
  - 2.65 Open Forest
  - 2.66 Open Forest
  - 2.67 Open Forest
  - 2.68 Open Forest
  - 2.69 Open Forest
  - 2.70 Open Forest
  - 2.71 Open Forest
  - 2.72 Open Forest
  - 2.73 Open Forest
  - 2.74 Open Forest
  - 2.75 Open Forest
  - 2.76 Open Forest
  - 2.77 Open Forest
  - 2.78 Open Forest
  - 2.79 Open Forest
  - 2.80 Open Forest
  - 2.81 Open Forest
  - 2.82 Open Forest
  - 2.83 Open Forest
  - 2.84 Open Forest
  - 2.85 Open Forest
  - 2.86 Open Forest
  - 2.87 Open Forest
  - 2.88 Open Forest
  - 2.89 Open Forest
  - 2.90 Open Forest
  - 2.91 Open Forest
  - 2.92 Open Forest
  - 2.93 Open Forest
  - 2.94 Open Forest
  - 2.95 Open Forest
  - 2.96 Open Forest
  - 2.97 Open Forest
  - 2.98 Open Forest
  - 2.99 Open Forest
  - 3.00 Open Forest
- Large Rocks in Region

А. способ ареалов

В. способ качественного фона

С. способ количественного фона

Д. способ картограмм

Е. точечный способ

## ВОПРОС № 22

Какой вид проекции по характеру искажений представлен на рисунке?

- А. цилиндрическая равновеликая
- В. псевдоцилиндрическая
- С. коническая равноугольная
- Д. поликоническая
- Е. азимутальная равнопромежуточная





## QUESTION № 23

Canadian business jet manufacturer. It was also formerly a manufacturer of commercial jets, public transport vehicles, trains, and recreational vehicles?

- A. Airbus
- B. Boeing
- C. Embraer
- D. Aeromot
- E. Bombardier



## ВОПРОС № 24

Конские (лошадиные) широты?

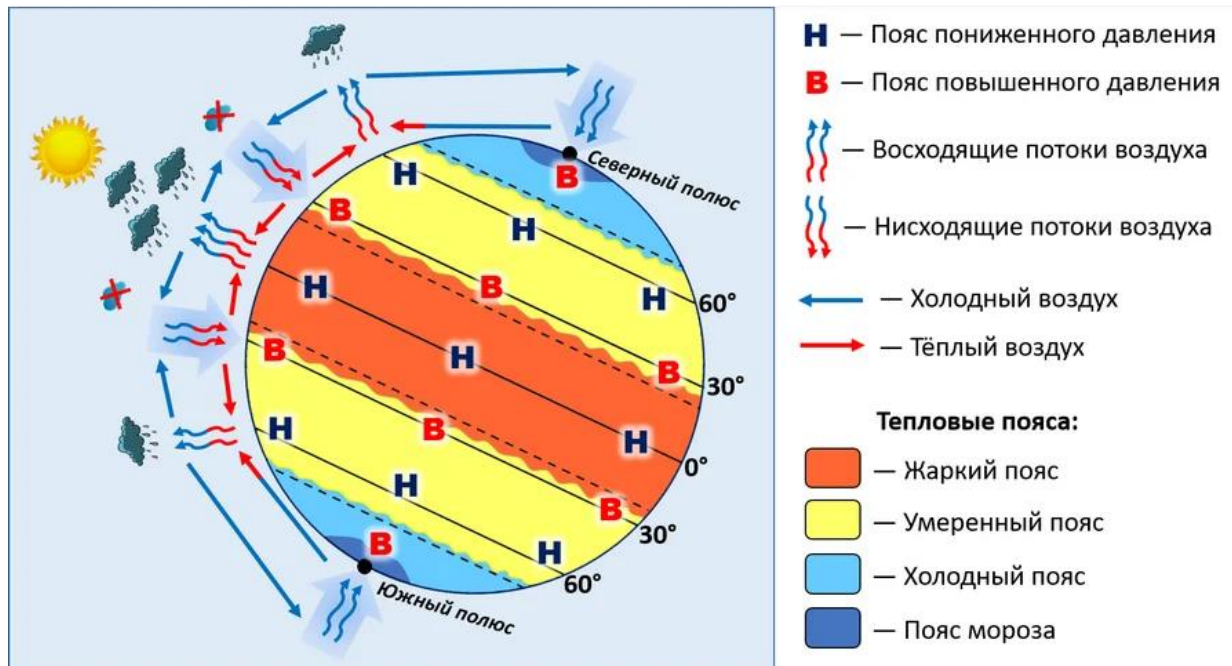
А. широты расположенные между 10 и 25 ° севернее и южнее Экватора

В. субтропические широты между 30 и 35 ° на севере и юге

С. океаническое пространство между 40° и 50° широты в Южном полушарии Земли

Д. пространствам между 50° и 60° широты в Южном полушарии Земли, которые расположены рядом с Антарктидой

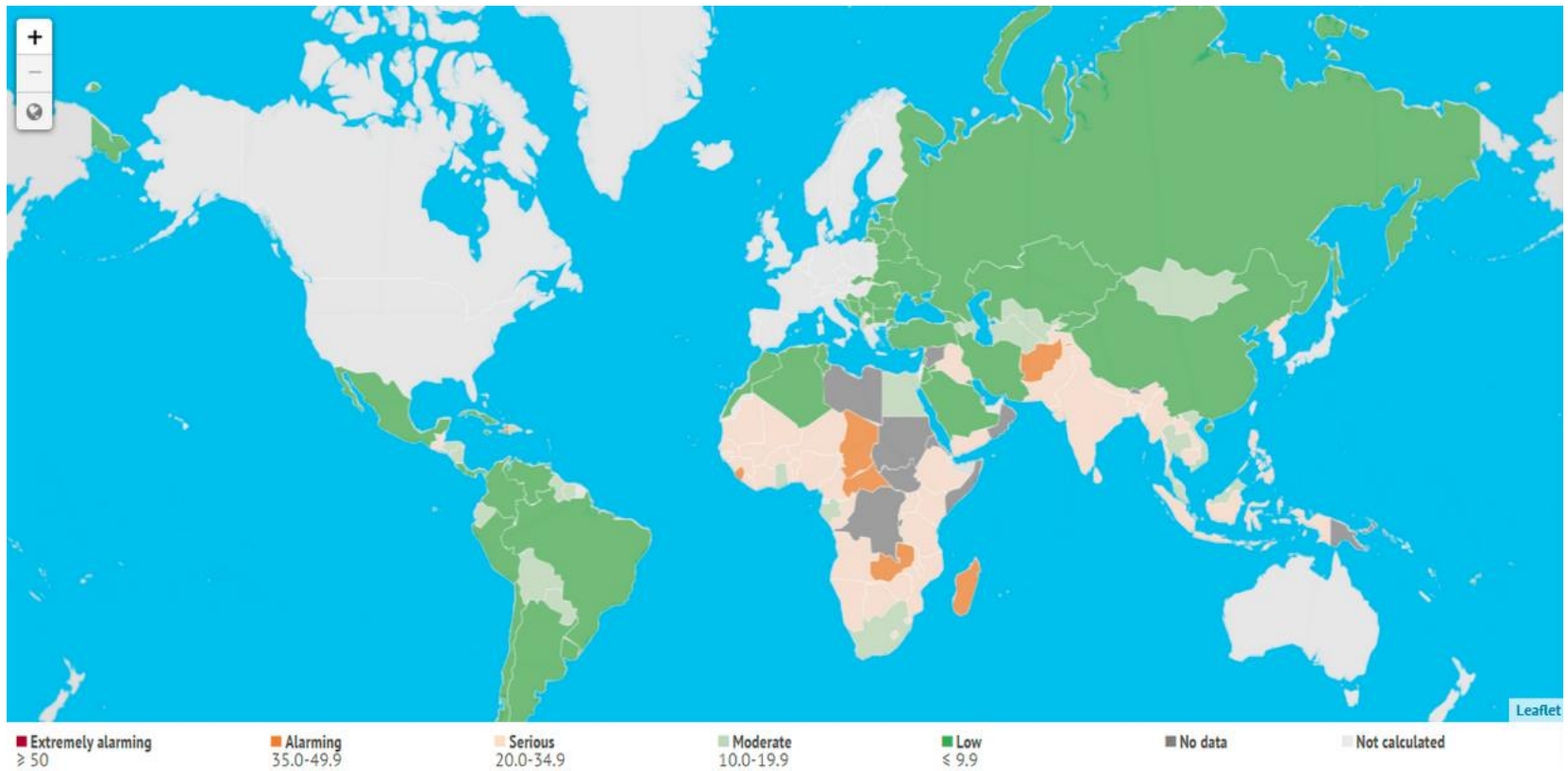
Е. субарктические широты между 60° и 70° с. ш.



## QUESTION № 25

What indicator does the map represent?

- A. gender inequality
- B. lack of medicine
- C. climate change
- D. malnutrition and hunger
- E. drinking water shortage



## ВОПРОС № 26

Магматическая горная порода, образующегося в результате быстрого охлаждения лавы. Основные минералы: кварц и полевой шпат.

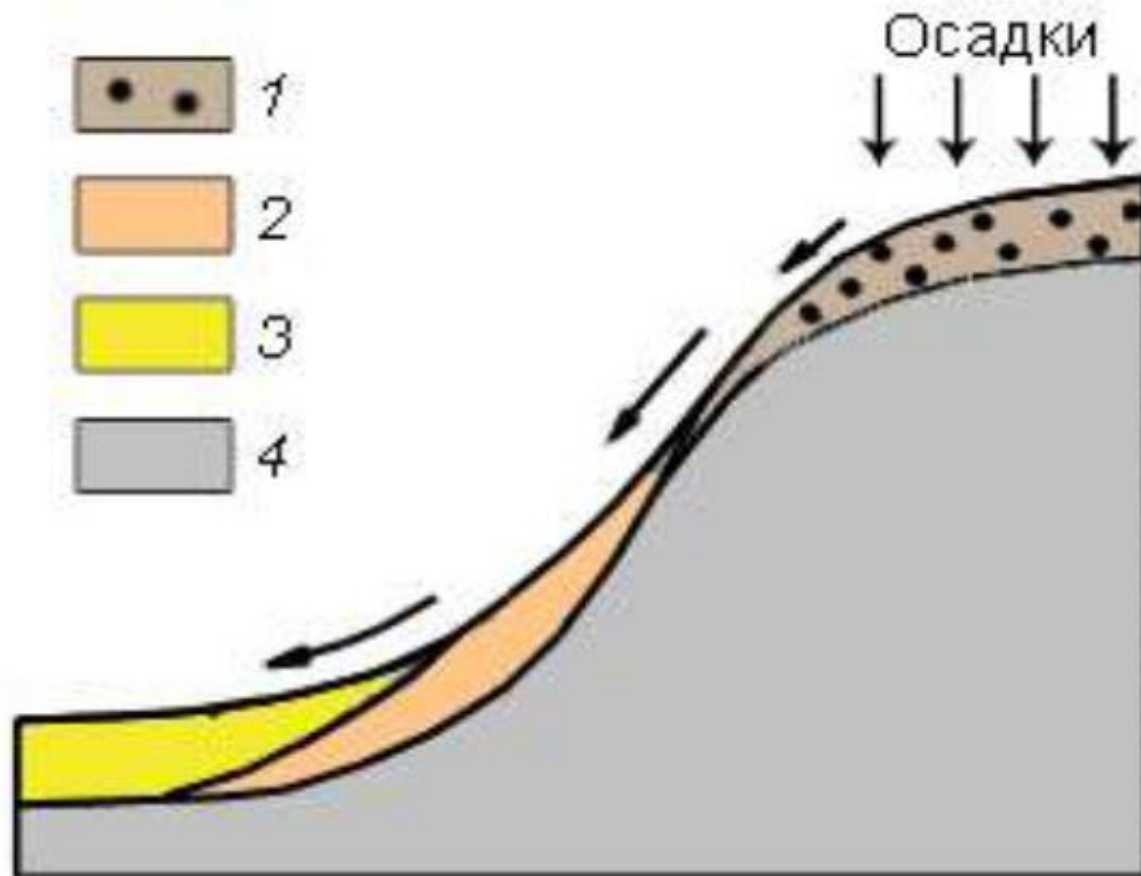
- А. боксит
- В. сланец
- С. обсидиан
- Д. берилл
- Е. опал



## ВОПРОС № 27

Какой вид отложений отмечен цифрой 3?

- А. элювий
- В. аллювий
- С. делювий
- Д. пролювий
- Е. иллювий

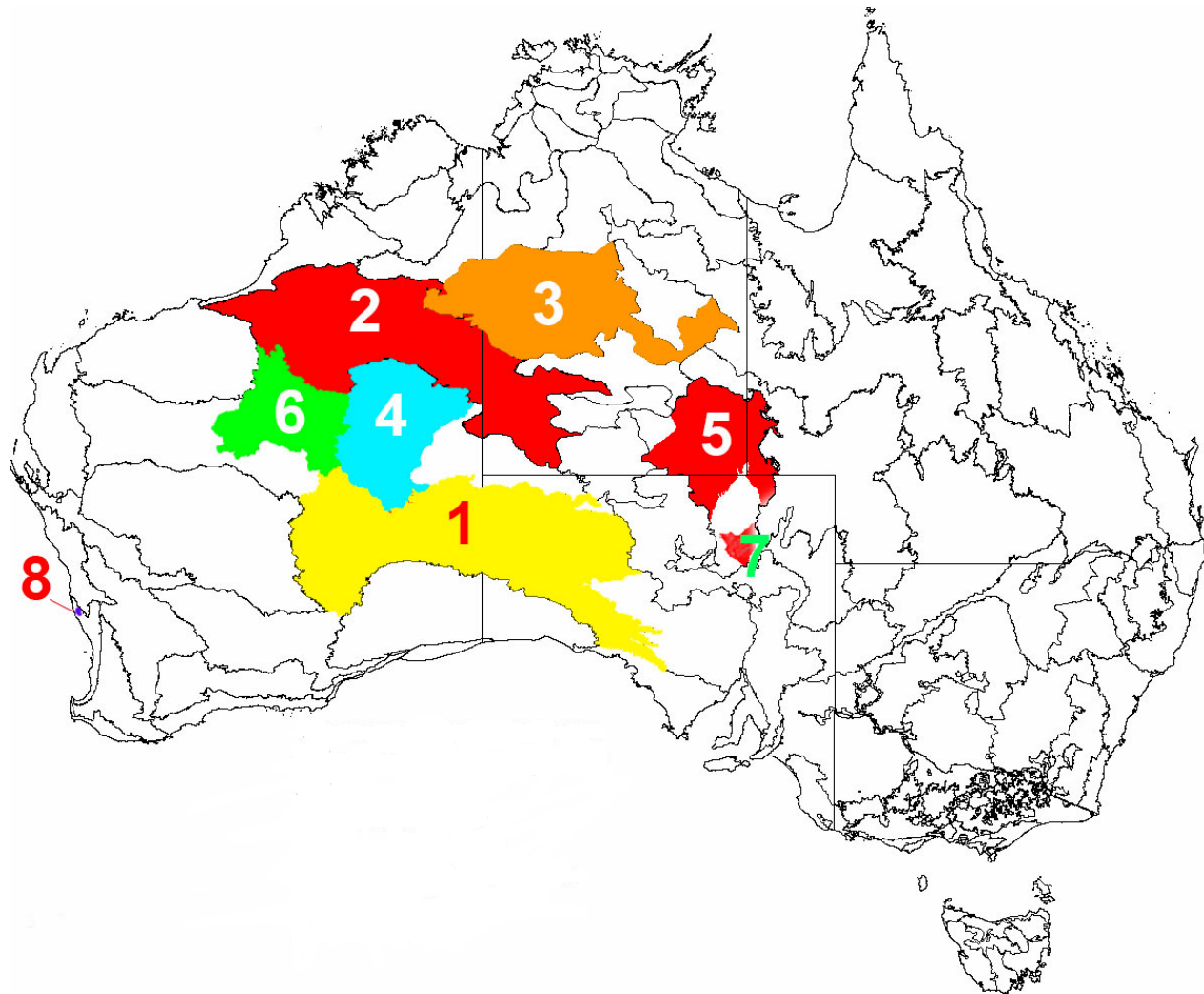




## QUESTION № 28

Which number in the picture indicates the location of the Gibson Desert?

- A. 2
- B. 3
- C. 4
- D. 5
- E. 6



## ВОПРОС № 29

В какой области Казахстана находится данный заповедник?

- А. Кызылординская
- В. Алматинская
- С. Восточно-Казахстанская
- Д. Жамбылская
- Е. Туркестанская



## ВОПРОС № 30

Какая форма ледникового рельефа показана на фотографиях?

- А) нунатаки
- Б) друмлины
- С) бараньи лбы
- Д) трог
- Е. цирк



---

# Тест завершен!

